

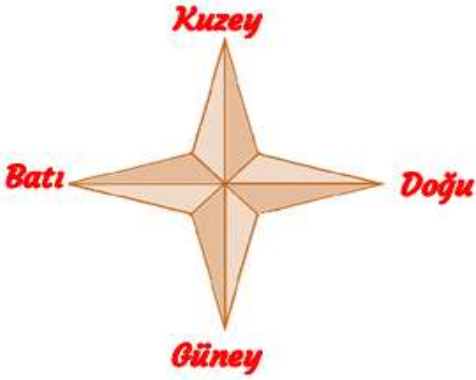
Adı :
Soyadı:

2. Sınıf
Hayat Bilgisi

Doğada Hayat
Yönler

YÖNÜMÜZÜ BULALIM

4 tane ana yön vardır.



- 1-Kuzey (K harfi ile kısa yazılır.)
- 2-Güney (G harfi ile kısa yazılır.)
- 3-Doğu (D harfi ile kısa yazılır.)
- 4-Batı (B harfi ile kısa yazılır.)

Yönlerimiz güneşin hareketlerine göre belirlenir. Güneş sabahları **doğudan** doğar. Akşamları da **batıdan** batar. Bu nedenle güneşin doğduğu yöne doğu, battığı yöne batı deriz. Güneş öğle vaktinde tam tepede bulunur. Bu durumda güneşin olduğu yön güneyi gösterir. Güneyin ters tarafı kuzeydir.



Yönümüzü nasıl buluruz?

Güneşin doğduğu yönü bulunuz.


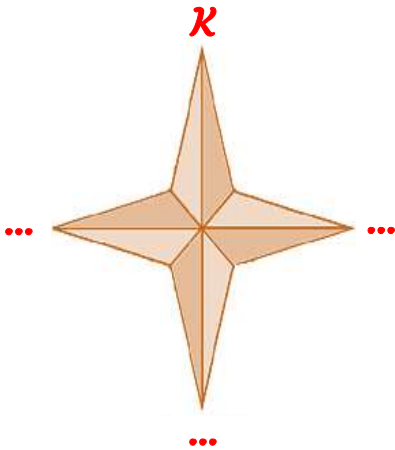
Sağ kolunuzu güneşin doğduğu yöne uzatınız. (Doğu)

Sol kolunuzu güneşin battığı yöne uzatınız. (Batı)

Önümüz (Kuzey)

Arkamız (Güney)

Yönlerimizi yazalım.

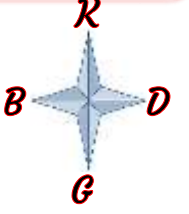


Adı :
Soyadı:

2. Sınıf
Hayat Bilgisi

Doğada Hayat
Yönler

Yönlerimizi yazalım. (Yön oklarına bakalım.)



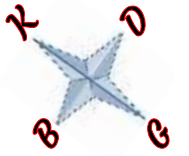
Çocuğun doğusundavar.

Çocuğun kuzeyindevar.

Çocuğun batısındavar.

Çocuğun güneyindevar.

Yönlerimizi yazalım. (Yön oklarına bakalım.)



Ev çocuğun tarafındadır.

Okul çocuğun tarafındadır.

Ağaç çocuğun tarafındadır.

Araba çocuğun tarafındadır.

Adı :
Soyadı:

2. Sınıf
Hayat Bilgisi

Doğada Hayat
Yönler

Çocukların oturdukları eve göre aşağıdaki boşlukları doldurunuz.



Emir



Çetin



Mustafa



Poyraz



Hilal



Şule



Ahsen



Güneş



Merve

Emirlerin doğusunda oturuyor.

Hilallerin kuzeyinde oturuyor.

Şulelerin güneyinde oturuyor.

Mervelerin batısında oturuyor.

Poyrazların güneyinde oturuyor.

Güneşlerin batısında oturuyor.

Çetinlerin doğusunda oturuyor.

Mustafaların batısında oturuyor.

Hilallerin batısında oturuyor.

Güneşlerin doğusunda oturuyor.

Poyrazların kuzeyinde oturuyor.

Mervelerin kuzeyinde oturuyor.

Adı :
Soyadı:

2. Sınıf
Hayat Bilgisi

Doğada Hayat
Yönler

Haritaya göre şehirlerin komşularını yönlerine göre yazalım.



ISPARTA

Kuzeyinde	
Güneyinde	
Batısında	
Doğusunda	

ANKARA

Kuzeyinde	
Güneyinde	
Batısında	
Doğusunda	

ERZİNCAN

Kuzeyinde	
Güneyinde	
Batısında	
Doğusunda	

ANTALYA

Kuzeyinde	
Güneyinde	
Batısında	
Doğusunda	

Adı :
Soyadı:

2. Sınıf
Hayat Bilgisi

Doğada Hayat
Yönler

Boşlukları dolduralım.






ana

güneşin

yönlerden

doğudan

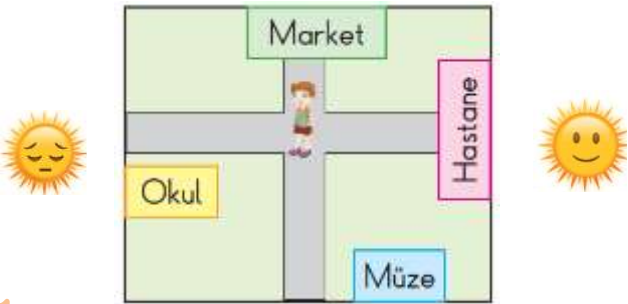
güney

-  Güneşdoğar, batıdan batar.
-  Yönlerhareketlerine göre belirlenir.
-  Yönümüzü tarif etmek için 4 taneyön kullanırız.
-  Önümüz kuzey ise arka tarafımızolur.
-  Bir yerin bulunduğu yeri tarif ederkenfaydalanırız.

Doğru mu? Yanlış mı?

- () Önümüz batıyı gösterirse arkamız güney olur.
- () Güneş doğudan doğar, batıdan batar.
- () Öğle vaktinde güneşin olduğu yön güneydir.
- () Güneşin battığı tarafa döndüğümüzde arkamız kuzey olur.
- () Yönlerimizi güneşin hareketleri ile belirleriz.

Doğru seçeneği işaretleyelim.



1 Güneş hastane tarafından doğmaktadır. Müze çocuğa göre hangi yöndedir.

- (A) Güney
- (B) Batı
- (C) Kuzey

2 Kaç tane ana yönümüz vardır?

- (A) 2
- (B) 4
- (C) 8

3 Güneşin doğduğu ve battığı yönler hangileridir?


- (A) Kuzey-Güney
- (B) Doğu-Batı
- (C) Doğu-Kuzey

Adı :
Soyadı:

2. Sınıf
Hayat Bilgisi

Doğada Hayat
Yönler

Dikkatli okuyalım. Cevabını işaretleyelim. Nedenini açıklayalım.



Yukarıdaki çocuk kutulu bölgelerde ilerleyecek. Her kutu 1 adım uzunluğunda. Buna göre,

Ok olan yerden başlayarak

Önce 3 adım doğuya gidiyor.

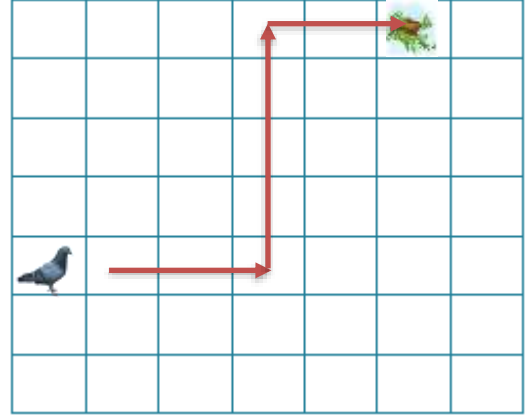
Sonra 3 adım güneye gidiyor.

Daha sonra 4 adım doğuya gidiyor.

Son olarak 3 adım kuzeye gidiyor.

Çocuk hangi topa oynamaktadır?

- ☐ A Basketbol topu
- ☐ B Futbol topu
- ☐ C Voleybol topu
- ☐ D Deniz topu



Yukarıdaki güvercin yuvasına gitmek istiyor. Yuvasına gitmesi için okları takip etmesi gerekiyor.

Güvercinin kutu kutu izleyeceği yol hangisidir?

- ☐ A Önce 3 kutu kuzeye sonra 5 kutu güneye daha sonra 2 kutu batıya
- ☐ B Önce 3 kutu doğuya sonra 5 kutu batıya daha sonra 2 kutu doğuya
- ☐ C Önce 3 kutu doğuya sonra 5 kutu kuzeye daha sonra 2 kutu doğuya
- ☐ D Önce 3 kutu doğuya sonra 5 kutu kuzeye daha sonra 2 kutu batıya